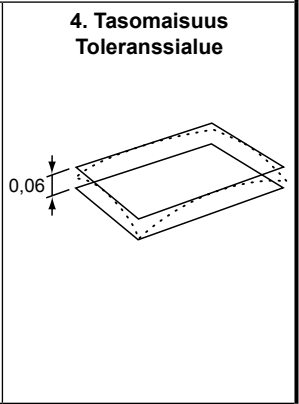
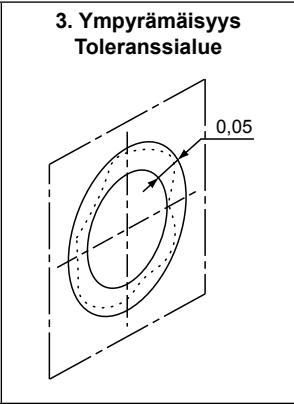
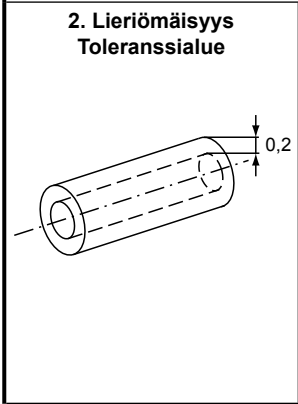
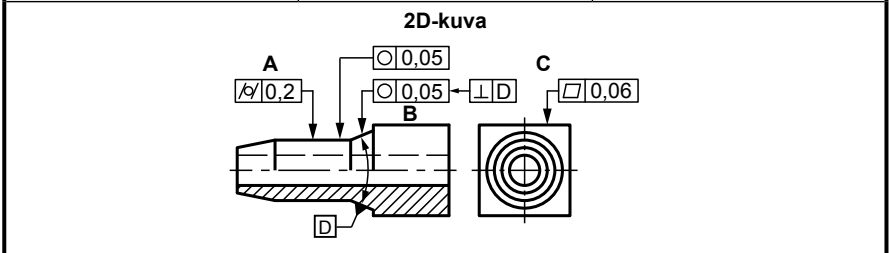


| | | |
|---------------------------------------|--------------------------------|------------------------------|
| 2. Lieriömäisyys A <i>M</i> | 3. Ympyrämäisyys B ○ | 4. Tasomaisuus C □ |
|---------------------------------------|--------------------------------|------------------------------|



Tulkinta

Lieriön pinnan on oltava kahden 0,2 säteittäisellä etäisyydellä toisistaan olevan samakeskisen lieriöpinnan välissä.

Tulkinta

Sekä lieriö- että kartiopinnan jokaisen poikkileikkauksen kehän on oltava kahden samassa tasossa 0,05 säteittäisellä etäisyydellä toisistaan olevan samankeskisen ympyrän välissä.

Tulkinta

Pinnan on oltava kahden 0,06 etäisyydellä toisistaan olevan yhdensuuntaisen tason välissä.

